

## Çemberin Çevresi, Dairenin Alanı, $\pi$ 'nin Değeri

Bu yazıda,  $r$  yarıçaplı bir çemberin çevresinin neden  $2\pi r$ , alanının neden  $\pi r^2$  olduğunu göreceğiz. İlkokuldan beri ezberlenen bu formüllerin kanıtlarını merak etmemiş olabilirsiniz. Ne yazık ki okullarda -salt Türkiye’de değil, dünyanın hemen hemen her yerinde ve özellikle matematik derslerinde- öğrenciler sorgulamaya teşvik edilmezler. Öğretmenin dediği kabul edilir.

Yazının ortalarında  $3 < \pi$  eşitsizliğini kanıtlayacağım. Hemen, “çok kolay” deyip kaleme kâğıda sarılmayın.  $3 < \pi$  eşitsizliğini kanıtlamak için  $\pi$ 'nin tanımını bilmek gerekir.  $\pi$ 'nin tanımını biliyor musunuz? Sanmıyorum. Okullarda pek öğretilmez. Bu eşitsizliği kanıtlamak için okullarda öğretilen  $\pi = 3,14$  yada  $\pi = 22/7$  gibi (doğru olmayan) bilgiler kullanılmamalıdır<sup>1</sup>. Yazının 6'ncı bölümünde  $\pi$ 'nin tanımını vereceğim. O tanım okunduktan sonra  $3 < \pi$  eşitsizliği kanıtlanmalıdır, daha önce değil.

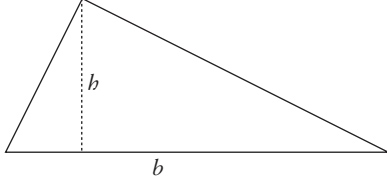
Çok basit matematikten başlayacağız. Önce ünlü Pisagor ve Tales teoremlerini kanıtlayacağız. Bu biraz zaman alacak. Bu

---

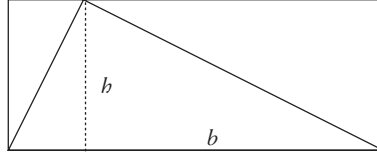
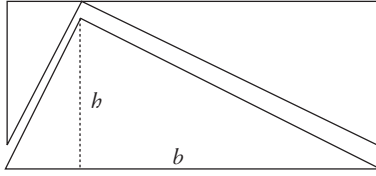
1 Okullarda, genellikle  $\pi$ 'nin 3,14'e eşit olduğu öğretilir. Bu doğru değildir.  $\pi$  sayısı aşağı yukarı 3,14'tür. Tam 3,14 değildir. Örneğin  $\pi$  sayısı 3,14159'a daha yakındır.  $\pi$  sayısı, 3,14159 diye başlar ama sonsuza dek, hiç yinelenmeden sürer gider. Bunu kanıtlayabilmek için önce  $\pi$ 'nin tanımını bilmek gerekir. Tanımı bilinmeyen bir sayının değeri de bilinemez elbette. Tanımlandıktan sonra bile  $\pi$ 'nin değeri üzerine bir şey söylemek kolay değildir.

yüzden, Pisagor ve Tales teoremlerini ve kanıtlarını bilen okur, dilerse, doğrudan beşinci bölüme gidebilir.

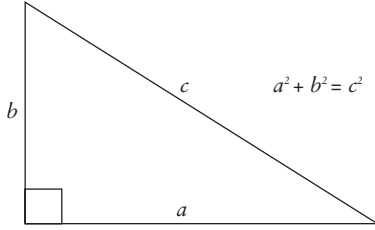
**1. Üçgenin Alanı:** Yüksekliği  $h$ , tabanı  $b$  olan bir üçgenin alanı  $bh/2$ 'dir.



Bu formülü bilmeyen lise fen bölümü öğrencileri tanıdım ne yazık ki. Öte yandan, geçenlerde gittiğim özel bir ilkokulun beşinci sınıf öğrencileri hem formülü hem de kanıtını biliyorlardı. Sevindim elbet. Ama eğitimdeki eşitsizliği bir kez daha görüp üzüldüm de. İlkokul öğrencilerinin anlayabileceği bu kanıt bir şekilde açıklanabilir.



Üçgeni yukardaki şekillerdeki gibi “ikiyle çarpalım.” Böylece, yüksekliği  $h$ , tabanı  $b$  olan bir dikdörtgen elde ederiz. Dikdörtgenin alanı  $bh$  olduğundan<sup>2</sup>, üçgenin alanı  $bh/2$ 'dir.

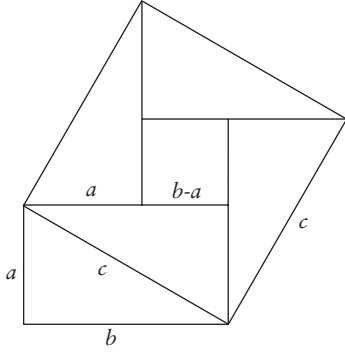


**2. Pisagor Teoremi.** Pisagor teoremi, *Bir diküçgenin dik açısının kenarlarının uzunluklarının karelerinin toplamı üçüncü kenarın uzunluğunun karesine eşittir*, der. Aynı teoremi şekilde

söylemek gerekebilir diye yukarda bir şekil çizdik.

<sup>2</sup> Kenarları  $b$  ve  $h$  olan bir dikdörtgenin alanının  $bh$  olduğunu bir belit (aksiyom) olarak ya da alan kavramının tanımının bir parçası olarak kabul edin, öyledir.

Bu teoremi kanıtlayacağız şimdi. Uzunluğu  $c$  olan kenara bir kare inşa edelim. Yamuk duran karenin bir kenarının uzunluğu  $c$ 'dir, demek ki alanı  $c^2$ 'dir. Şimdi aynı alanı başka türlü hesaplayacağız.



Karede dört üçgen var ve herbirinin alanı ilk üçgenimizin alanına eşit, yani her üçgenin alanı  $ab/2$ . Yamuk karenin içinde bu dört üçgenden başka, bir de küçük kare var. Bu küçük karenin her kenarı  $b - a$  olduğundan alanı  $(b - a)^2$ 'dir.

Demek ki yamuk karenin alanı aynı zamanda bu alanların toplamına eşittir:

$$\text{Dört üçgenin alanı} = 4 \times ab/2 = 2ab$$

$$\text{Küçük karenin alanı} = (b - a)^2 = b^2 - 2ab + a^2$$

$$\text{Toplam alan} = a^2 + b^2$$

Dolayısıyla  $c^2 = a^2 + b^2$  eşitliği geçerlidir. Pisagor Teoremi'ni de kanıtladık.

Sıra Tales Teoremi'ni kanıtlamaya geldi. Tales'in Teoremi'ni iki aşamada kanıtlayacağız.

**3. Tales'in Teoremi (1):** Yandaki şekilde  $HC/H'C' = AH/AH'$  eşitliği geçerlidir.

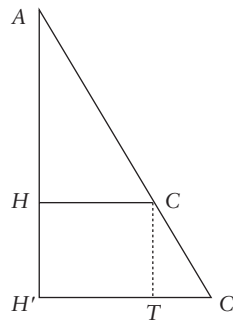
$AH'C'$  üçgeninin alanını iki türlü hesaplayacağız.

Bu alan, her şeyden önce,  $AH' \times H'C' / 2$ 'ye eşittir.

Aynı zamanda  $AHC$  üçgeninin,  $HCTH'$  dikdörtgeninin ve  $CTC'$  üçgeninin alanlarının toplamına eşittir, yani,

$$AH \times HC / 2 + HC \times HH' + CT \times TC' / 2$$

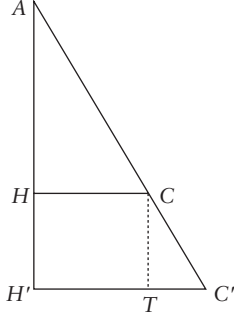
ye eşittir. Demek ki,



$AH' \times H'C' / 2 = AH \times HC / 2 + HC \times HH' + CT \times C'T / 2$   
 eşitliği doğru. Bu eşitlikte,

$HH'$  yerine  $AH' - AH$ ,  
 $CT$  yerine  $AH' - AH$ ,  
 $C'T$  yerine  $H'C' - HC$

koyalım, çarpıp sadeleştirelim, istediğimiz eşitliği elde ederiz.



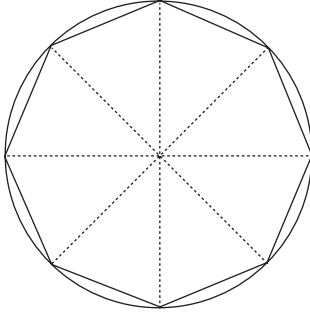
**4. Tales'in Teoremi (2):** Yandaki şekilde  $AC/HC = AC'/H'C'$  eşitliği geçerlidir.

Yukardaki teoremi ve Pisagor Teoremi'ni kullanacağız:

$$\begin{aligned} AC^2 &= (\text{Pisagor}) AH^2 + HC^2 \\ &= (\text{Tales 1}) (AH'^2 \times HC^2 / H'C'^2) + HC^2 \\ &= (\text{cebir}) (HC^2 / H'C'^2) (AH'^2 + H'C'^2) \\ &= (\text{Pisagor}) (HC^2 / H'C'^2) \times AC'^2. \end{aligned}$$

Şimdi iki tarafın da karekökünü alarak dilediğimiz eşitliği kanıtlayabiliriz<sup>3</sup>.

**5. Düzgün Çokgenler.** Bir çembere düzgün çokgenlerle yakınsayabiliriz. Örneğin, çemberin içine yerleştirilen bir düzgün sekizgenin çevresi, çemberin çevresine oldukça yakındır.



Eğer çemberin içine bir düzgün onaltıgen yerleştirirsek, çembere daha da yaklaşmış oluruz.

Çokgenin kenar sayısını ne kadar çok artırırsak, çembere o kadar çok yakınsarız. Çokgenin çevresi, çemberin çevresinden her zaman daha küçüktür, ama aradaki fark kenar sayısı arttıkça küçülür, öyle ki “sonsuz-

<sup>3</sup> Tales Teoremi biraz daha geneldir, ama hem o genel haline gereksinmeyeceğiz, hem de o genel hali bu iki özel halden kolayca çıkar.

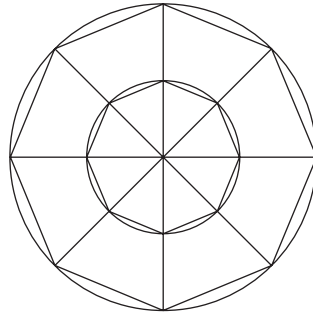
da” bu iki çevre birbirlerine eşit olurlar. Bir başka deyişle, çember, bir düzgün sonsuzgendir.

Aynı şey çemberin içerdiği alan için de geçerlidir. Düzgün çokgenin alanı, kenar sayısı arttıkça, dairenin alanına yakınsar ve “sonsuzda” iki alan birbirine eşit olur.

**6.  $\pi$ 'nin Tanımı.** Pek yakında  $r$  yarıçaplı bir çemberin çevresinin  $2\pi r$  olduğunu kanıtlayacağız. Bir an için bunu bildiğimizi varsayarsak, bir çemberin çevresi yarıçapına bölüldüğünde  $2\pi$  elde edildiğini görürüz. Bu, bütün çemberler için geçerlidir. Yani herhangi bir çemberi yarıçapına bölersek, hep aynı sayıyı, bir sabiti ( $2\pi$ 'yi) elde ederiz. Bunu kanıtlayalım. Kanıttan hemen sonra  $\pi$  sayısını tanımlayacağız.

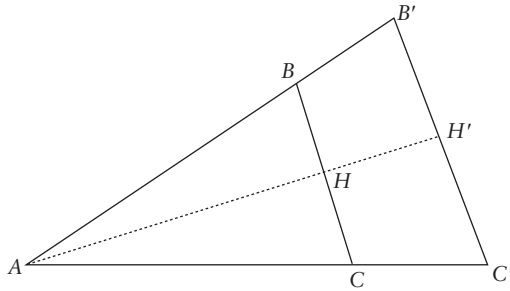
Aynı merkezli iki çember ele alalım. Bu çemberlerin içine düzgün çokgenler oturtalım.

Çokgenlerin kenar sayısına  $n$  diyelim. Her ne denli  $n$  şekilde 8 ise de, biz  $n$ 'nin çok, ama çok büyük, “sonsuzya yakın” (ne demekse!) bir sayı olduğunu varsayalım.



Küçük çemberin çevresine  $\lambda$ , büyük çemberin çevresine  $\lambda'$  diyelim. Küçük çemberin çapına  $r$ , büyük çemberin çapına da  $r'$  diyelim. Ve küçük çokgenin çevresine  $\lambda_n$ , büyük çokgenin çevresine  $\lambda'_n$  diyelim.

Üçgenlerden birini büyütelim:



Elbette,

$$r = AB \text{ ve } r' = AB' \quad (2)$$

ile

$$\lambda_n = n \times BC \text{ ve } \lambda'_n = n \times B'C'$$

eşitlikleri geçerlidir. Birazdan  $\lambda/r = \lambda'/r'$  eşitliğini kanıtlayacağız.

$\lambda$ , aşağı yukarı  $\lambda_n$ 'ye, yani  $n \times BC$ 'ye eşit.  $n$  büyüdükçe  $BC$  küçülüyor ve  $n \times BC$  sayısı  $\lambda$ 'ye yakınıyor. Demek ki

$$\lambda \approx \lambda_n = n \times BC$$

ve

$$\lambda' \approx \lambda'_n = n \times B'C' \quad (3)$$

aşağıyukarılıkları geçerlidir<sup>4</sup>.

Şimdi (1), (2) ve (3)'ü kullanarak hesaplayalım:

$$\begin{aligned} \lambda/r & \stackrel{(2)}{=} \lambda/AB \approx^{(3)} n \times BC/AB = n \times 2BH/AB \\ & \stackrel{\text{(Pisagor)}}{=} n \times 2B'H'/AB' \\ & = n \times B'C'/AB' \approx^{(3)} \lambda'/AB' \stackrel{(2)}{=} \lambda'/r'. \end{aligned}$$

Böylece  $\lambda/r = \lambda'/r'$  eşitliği kanıtlanmış oldu<sup>5</sup>.

Demek ki, herhangi bir çemberin uzunluğunu yarıçapına bölersek hep aynı sayıyı buluruz. Yani  $\lambda/r$  sayısı, çember ne olursa olsun değişmez, hep aynıdır, bir sabittir. Hiç değişmeyen bu  $\lambda/r$  sabitinin yarısı da, yani  $\lambda/2r$  sayısı da bir sabittir. Bu sabite özel bir ad verelim:  $\pi$ . İşte şimdi  $\pi$ 'yi tanımladık:

$$\pi = \lambda/2r. \quad (4)$$

**7. “ $3 < \pi$ ” Eşitsizliği.**  $\pi$ 'yi tanımladık ama değerini bilmiyoruz. Yukardaki tanımdan hareket ederek,  $3 < \pi$  eşitsizliğini kanıtlayalım.

---

4 Bu aşağıyukarılıklar matematikte

$$\lambda = \lim_{n \rightarrow \infty} \lambda_n = \lim_{n \rightarrow \infty} n \times BC$$

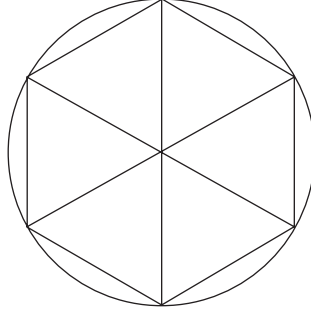
ve

$$\lambda' = \lim_{n \rightarrow \infty} \lambda'_n = \lim_{n \rightarrow \infty} n \times B'C'$$

olarak yazılır. Örneğin birinci eşitlik, “ $n$  sonsuza gittiğinde,  $n \times BC$  sayısı  $\lambda$ 'ya gider” diye okunabilir.

5  $\approx$  imiyle gösterilen aşağıyukarılıklardan rahatsız olan okur, limit kavramını kullanmalıdır. O zaman yukardaki hesap şöyle olur:  $\lambda/r = \lambda/AB = \lim_{n \rightarrow \infty} n \times BC/AB = \lim_{n \rightarrow \infty} n \times B'C'/AB' = \lambda'/AB' = \lambda'/r'$ .

Bir dairenin içine düzgün bir altıgen yerleştirelim. Dairenin yarıçapı  $r$  olsun. Demek ki dairenin çapı  $2r$ . Tanıma göre, dairenin çevresini  $2r$ 'ye bölersek  $\pi$ 'yi elde ederiz. Bir başka deyişle, dairenin çevresi  $2\pi r$ 'ye eşittir. Öte yandan düzgün altıgenin çevresi  $6r$ . Düzgün altıgenin çevresi dairenin çevresinden daha küçük olduğundan  $6r < 2\pi r$  elde ederiz. Sadeleştirirsek,  $3 < \pi$  bulunur, ki bu da bizim kanıtlamak istediğimiz eşitsizliktir zaten.



Bu kanıtı biraz daha az sözle şöyle gösterebiliriz:

$$\text{Dairenin Çevresi} = 2\pi r.$$

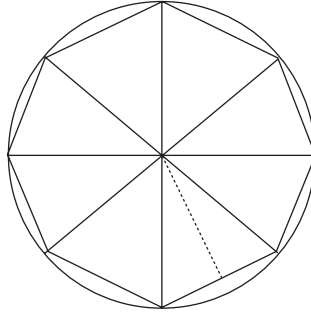
$$\text{Altıgenin Çevresi} = 6r.$$

$$\text{Demek ki } 6r < 2\pi r.$$

$$\text{Yani } 3 < \pi.$$

**8. Çemberin Çevresi.**  $r$  yarıçaplı bir çember ele alalım. Bu çemberin çevresine  $\lambda$  diyelim. Üçüncü bölümdeki tanıma göre  $\pi = \lambda/2r$ 'dir. Demek ki  $\lambda = 2\pi r$ 'dir! Çemberin çevresinin formülünü bulduk<sup>6</sup>.

**9. Dairenin Alanı.** Şimdi,  $r$  yarıçaplı bir dairenin alanını bulalım. Alanın  $\pi r^2$ 'ye eşit olduğunu kanıtlayacağız. Yukarıda yaptığımız gibi daireye bir çokgen yerleştirelim, yani daireyi üçgenlere bölelim.



Üçgen sayımıza  $n$  diyelim. Her  $n$  denli şekilde  $n$ , 8'e eşitse de, aslında

<sup>6</sup> Ama  $\pi$ 'nin tam değerini bilmediğimiz için bu formülü kullanarak bir çemberin çevresini sayısal olarak hesaplayamayız.

$n$  çok büyük bir sayı, sonsuza yakın! Çokgenin çevresi  $\lambda_n$ , alanı da  $A_n$  olsun. Çemberin çevresi  $\lambda$ , alanı  $A$  olsun.  $n$  ne kadar büyükse  $\lambda_n$  ve  $A_n$  sayıları  $\lambda$  ve  $A$ 'ya o kadar yakındır. Üçgenlerin yüksekliğine  $h$ , tabanına  $b$  diyelim. Her üçgenin alanı  $bh/2$ 'dir.  $n$  tane üçgen olduğundan, çokgenin alanı  $nbh/2$ 'dir. Demek ki

$$A_n = nbh/2$$

eşitliği geçerlidir.

Ama  $nb$  çokgenin çevresine, yani  $\lambda_n$ 'ye eşit. Dolayısıyla

$$A_n = \lambda_n h/2.$$

Öte yandan  $h$  aşağı yukarı  $r$ 'ye eşittir.<sup>7</sup> Demek ki

$$A_n \approx r\lambda_n/2$$

Şimdi  $n$ 'yi sonsuza götürelim. O zaman  $A_n$  sayısı  $A$ 'ya,  $\lambda_n$  sayısı da  $\lambda$ 'ye dönüşür ve yukardaki aşağıyukarılık,

$$A = r\lambda/2$$

eşitliğine dönüşür. Yukarda

$$\lambda = 2\pi r$$

eşitliğini kanıtlamıştık.  $A = r\lambda/2$  formülündeki  $\lambda$  yerine  $2\pi r$  koyalım:

$$A = r(2\pi r)/2 = \pi r^2$$

elde ettik. Çemberin alanını bulduk.

**10.  $\pi$ 'nin Değeri.** Yazının süreğinde  $\pi$  sayısının nasıl hesaplanacağına ilişkin birkaç ilginç bilgi vereceğim. Vereceğim bu bilgileri burda kanıtlamama olanak yoktur, bunlar ancak üniversite düzeyinde kanıtlanabilir.

Aşağıdaki sonsuz toplama bakalım:

$$1/1 - 1/3 + 1/5 - 1/7 + 1/9 - 1/11 + \dots$$

Bu sonsuz toplam sonlu bir sayıdır. Bu sonlu sayı, sıkı durun,  $\pi/4$ 'e eşittir. Yani,

$$\pi = 4 \times (1/1 - 1/3 + 1/5 - 1/7 + 1/9 - 1/11 + \dots)$$

eşitliği geçerlidir.

<sup>7</sup>  $n$ 'nin çok büyük bir sayı olduğunu unutmayın.



Yavaş yavaş hesaplayalım bu toplamı.

$$4 \times 1/1 = 4$$

$$4 \times (1/1 - 1/3) = 8/3 = 2,6666\dots$$

$$4 \times (1/1 - 1/3 + 1/5) = 52/15 = 3,4666\dots$$

$$4 \times (1/1 - 1/3 + 1/5 - 1/7) = 304/105 \approx 2,895238095$$

$$4 \times (1/1 - 1/3 + 1/5 - 1/7 + 1/9) = 1052/315 \approx 3,33968254$$

$$4 \times (1/1 - 1/3 + 1/5 - 1/7 + 1/9 - 1/11) = 10312/3465 \approx 2,976046176$$

$$4 \times (1/1 - 1/3 + 1/5 - 1/7 + 1/9 - 1/11 + 1/13) = 36979/45045 \approx 3,283738484.$$

Elde ettiğimiz sayılar (bunlara **kısmi toplamlar** denir) bir büyük bir küçülür ve sonsuza ne denli yaklaşırsak, bu sayılar  $\pi$ 'ye o denli yakınsarlar. Bilgisayarımda biriki hesap yaptım, işte sonuçları<sup>8</sup>:

İlk 1 terimin toplamı	=	1
İlk 2 terimin toplamı	≈	2,666667
İlk 3 terimin toplamı	≈	3,466667
İlk 4 terimin toplamı	≈	2,895238
İlk 5 terimin toplamı	≈	3,339683
İlk 6 terimin toplamı	≈	2,976046
İlk 7 terimin toplamı	≈	3,283739
İlk 8 terimin toplamı	≈	3,017072
İlk 9 terimin toplamı	≈	3,252366
İlk 10 terimin toplamı	≈	3,04184
İlk 100 terimin toplamı	≈	3,13193
İlk 101 terimin toplamı	≈	3,151493
İlk 1000 terimin toplamı	≈	3,140593
İlk 1001 terimin toplamı	≈	3,142592
İlk 2000 terimin toplamı	≈	3,14109
İlk 3000 terimin toplamı	≈	3,141260
İlk 4000 terimin toplamı	≈	3,141345

---

8 Bilgisayarımda virgülden sonra altı basamaktan fazla gitmesini bilmiyorum. Bilgisayarım virgülden sonraki yedinci rakamı yazmıyor ve sayıyı milyonda bire yuvarlıyor. Bu yuvarlamaların sayısı arttıkça, yapılan yanlış da artabilir ne yazık ki. Bu yüzden bu sayılara pek güvenmemek gerekir.

İlk 10000 terimin toplamı	≈	3,141498
İlk 20000 terimin toplamı	≈	3,141547
İlk 30000 terimin toplamı	≈	3,141563
İlk 40000 terimin toplamı	≈	3.141571
İlk 50000 terimin toplamı	≈	3.141571
İlk 60000 terimin toplamı	≈	3.141571
İlk 70000 terimin toplamı	≈	3.141582
İlk 80000 terimin toplamı	≈	3.141583
İlk 90000 terimin toplamı	≈	3.141585
İlk 100000 terimin toplamı	≈	3.141586
İlk 120000 terimin toplamı	≈	3.141588
İlk 150000 terimin toplamı	≈	3.141589
İlk 230000 terimin toplamı	≈	3.141592

$\pi$ 'ye yakınsamak için başka formüllerden de yararlanabiliriz. İşte bu formüllerden bir başkası:

$$\pi/4 = (2/3 \times 4/3)(4/5 \times 6/5)(6/7 \times 8/7)(8/9 \times 10/9)(10/11 \times 12/11)...$$

Bu, sonsuz bir çarpımdır. Bu sonsuz çarpım şöyle de yazılabilir:

$$\pi/4 = 8/9 \times 24/25 \times 48/49 \times 80/81 \times 120/121...$$

yani,

$$\pi = 4 \times 8/9 \times 24/25 \times 48/49 \times 80/81 \times 120/121...$$

Bu terimlerin birkaç tanesini elle çarpalım:

İlk 1 terimin çarpımı	=	4	
İlk 2 terimin çarpımı	=	32/9	= 3,55555...
İlk 3 terimin çarpımı	=	256/75	= 5,41333...
İlk 4 terimin çarpımı	=	4096/1225	≈ 3,343673469
İlk 5 terimin çarpımı	=	65536/19845	≈ 3,30239355

Hep 1'den küçük bir sayıyla çarptığımızdan sayılar gittikçe küçülürler. Bu çarpımı sonsuza dek yapabilirsek, sonsuzda tam tamına  $\pi$  sayısını buluruz. Bilgisayarıma hesaplattırdım ve aşağıdaki sonuçları buldum:

İlk 10 terimin çarpımı	≈	3,20771
İlk 20 terimin çarpımı	≈	3,177493

İlk 30 terimin çarpımı  $\approx 3,166232$   
 İlk 40 terimin çarpımı  $\approx 3,160348$   
 İlk 100 terimin çarpımı  $\approx 3,149302$   
 İlk 500 terimin çarpımı  $\approx 3,143157$   
 İlk 1000 terimin çarpımı  $\approx 3,142376$   
 İlk 2000 terimin çarpımı  $\approx 3,141989$   
 İlk 2563 terimin çarpımı  $\approx 3,141854$

Bundan sonraki sayılar değişmiyor, çünkü bilgisayarımda virgülden sonra ancak altı hane gidebiliyorum. Daha sonraki çarpımlar 0,999999... olduğundan bilgisayarım bu sayıyı 1 sanıyor. (Bir komutla virgülden sonra istediğim kadar gidebilmeliyim, ama komutu bilmiyorum.) Bu formüle **Wallis formülü** denir.

$\pi$ 'yi şu formülle de hesaplayabiliriz:

$$\pi^2/8 = 1/12 + 1/32 + 1/52 + 1/72 + 1/92 + \dots$$

Doğanın bir garipliği...

$\pi$ 'yi hesaplamamanın bir başka yolu da aşağıdaki formülü kullanmaktır:

$$\pi/4 = \sum_{n=0}^{\infty} \left( \frac{(-1)^n}{2n+1} \frac{6}{8^{2n+1}} + \frac{2}{57^{2n+1}} + \frac{1}{239^{2n+1}} \right),$$

yani

$$\pi = 4 \times \sum_{n=0}^{\infty} \left( \frac{(-1)^n}{2n+1} \frac{6}{8^{2n+1}} + \frac{2}{57^{2n+1}} + \frac{1}{239^{2n+1}} \right),$$

Bu seri  $\pi$ 'ye yukarıdakilerden çok daha hızlı yakınsar. Örneğin, daha birinci terimde,


$$4 \times (6/8 + 2/57 + 1/239) = 43009/13623 \approx 3,157087279$$

sayısını buluruz, gerçek  $\pi$ 'ye oldukça yakın. Bunun kısmi toplamalarını hesaplayalım:

İlk 1 terimin toplamı  $\approx 3,157087$   
 İlk 2 terimin toplamı  $\approx 3,141448$   
 İlk 3 terimin toplamı  $\approx 3,141594$   
 İlk 4 terimin toplamı  $\approx 3,141593$

Bilgisayarım bundan sonra hep aynı sayıyı veriyor. Bu son formül 1962'de Shanks ve Wrench tarafından bulunmuştur<sup>9</sup>.

$\pi$ 'nin virgülden sonra, diyelim 216'ncı rakamını hesaplamak için formüller de vardır. Ama ne yaparsak yapalım,  $\pi$ 'yi hiçbir zaman tam olarak bulamayız, ama  $\pi$ 'ye (kesirli sayılarla) dilediğimiz kadar yakınsayabiliriz.



9 Bkz. Math Comp. 16. cilt, sayfa 76 (1962).